

دورة: ماي 2015

ثانوية الشيخ بوعمامة

المدة: 04 ساعات ونصف

الشعبة: رياضيات + تقني رياضي الإختبار التجريبي في مادة: العلوم الفيزيائية

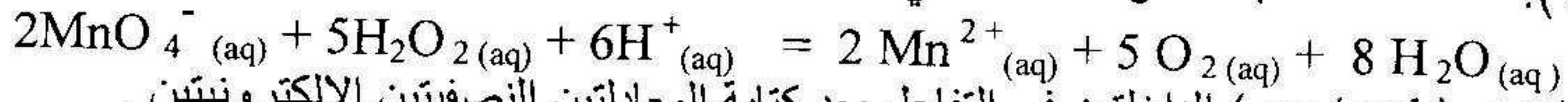
03 ساعات ونصف

علوم تجريبية

الموضوع الأول

التمرين الأول:

I- محلول ماء الأوكسجيني (H_2O_2) تركيزه $C_0 = 0.1 \text{ mol/L}$ ، تم تمدد يد F مرة، نأخذ الحجم $V_1 = 20 \text{ mL}$ من المحلول الممدد للماء الأوكسجيني تركيزه (C_1) و نعايره بوجود حمض الكبريت، بواسطة محلول برمنغنات البوتاسيوم ($KMnO_4$) تركيزه $C_2 = 0.02 \text{ mol/L}$. نحصل على نقطة التكافؤ بعد إضافة حجم $V_2 = 10 \text{ mL}$ من محلول ($KMnO_4$). المعادلة المنمذجة للتحويل الحادث هي:



1/ حدد الثنائيتين (ox/red) الداخلتين في التفاعل بعد كتابة المعادلتين النصفيتين الالكترونيتين.

2/ أنجز جدول التقدم لهذا التفاعل.

3/ اكتب عبارة C_1 بدلالة C_2 ، V_1 ، V_2 .

4/ احسب C_1 ، ثم استنتج معامل التمديد F .

II- الماء الأوكسجيني يتفكك ببطء شديد، معادلة هذا التفاعل هي: $2H_2O_2 (aq) = O_2 (g) + 2H_2O (l)$. عند اللحظة $t = 0 \text{ s}$ نمزج حجم $V_0 = 80 \text{ mL}$ من الماء الأوكسجيني تركيزه C_0 ، مع حجم $V = 20 \text{ mL}$ من محلول كلور الحديد الثلاثي. البيان المجاور يبين تطور كمية ثنائي الأوكسجين $n(O_2) = f(t)$.

1/ أنجز جدول التقدم لهذا التفاعل.

2/ استنتج العلاقة الموجودة بين تقدم التفاعل و كمية مادة ثنائي الأوكسجين.

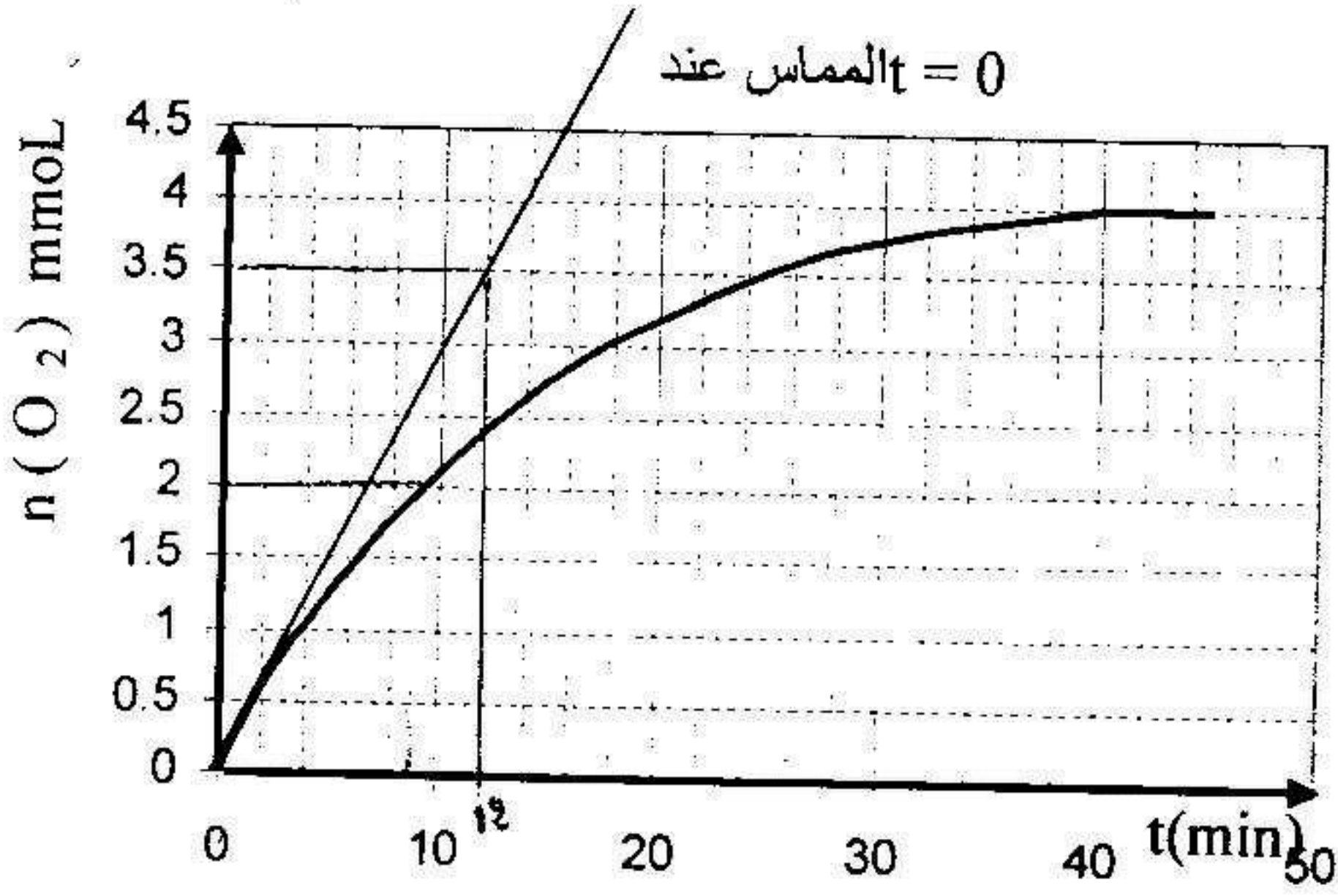
3/ احسب التقدم النهائي للتفاعل.

4/ عرف زمن نصف التفاعل، وحدد قيمته.

5/ اكتب عبارة سرعة التفاعل عند اللحظة (t) .

6/ احسب هذه السرعة عند اللحظة $(t = 0)$.

7/ انكر العوامل الحركية في هذا التحويل.



التمرين الثاني:

لغرض دراسة ظاهرة شحن مكثفة فارغة نركب الدارة التالية تحتوي على التسلسل:

- نقل أومي مقاومته $R = 10K\Omega$ ، مكثفة سعته C

- مولد ذي التوتر الثابت E

- قاطعة K

نغلق القاطعة في اللحظة $t = 0$ ، بواسطة جهاز EXAO و برمجية خاصة أمكننا من الحصول على المنحنى تغيرات الشحنة q بدلالة الزمن t الممثل في الشكل 1.

1 - ضع رسما تخطيطيا للدارة تبين فيه

جهة التيار المار في الدارة و الأسهم الممثلة للتوترات.

2 - بتطبيق قانون جمع التوترات

أوجد المعادلة التفاضلية بدلالة

شحنة المكثفة $q(t)$.

3 - بين أن العبارة التالية :

$$q(t) = A(1 - e^{-bt})$$

هي حل للمعادلة

مع تحديد عبارة الثابتين A و $1/b$

ثم استخرجهما من البيان

ما مدلولهما الفيزيائي ؟

4 - اعتمادا على المنحنى الممثل في الشكل (1) أوجد قيمة سعة المكثفة C و التوتر E بين طرفي المولد .

5 - نكرر التجربة السابقة بتغيير المقادير المبينة في الجدول فتحصلنا على المنحنيات الموضحة في الشكل - 2 -

* أنسب لكل منحنى التجربة الموافقة له مع التعليل؟

رقم التجربة	$R(K\Omega)$	$C(\mu F)$	$E(V)$
①	10	100	6
②	10	50	6
③	10	100	3

التمرين الثالث :

1 / لعنصر البولونيوم (Po) عدة نظائر مشعة ، أحدها فقط طبيعي .

أ / ما المقصود كل من النظير و النواة المشعة ؟

ب / نعتبر أحد النظائر المشعة ، نواته $\frac{A}{Z}Po$ و التي تتفكك إلى نواة الرصاص $^{206}_{82}Pb$ و تصدر جسيم α .

أكتب معادلة التفاعل المنمذج لتفكك نواة النظير $\frac{A}{Z}Po$ ثم استنتج قيمتي Z و A .

2 / ليكن N_0 عدد الأنوية المشعة الموجودة في عينة من النظير $\frac{A}{Z}Po$ في اللحظة $t=0$ ، $N(t)$ عدد

الأنوية المشعة غير المتفككة الموجودة فيها في اللحظة t .

باستخدام كاشف لإشعاعات (α) مجهز بعداد رقمي تم الحصول على جدول القياسات التالي :

t (jours)	0	20	50	80	100	120
$\frac{N(t)}{N_0}$	1.00	0.90	0.78	0.67	0.61	0.55
$-\ln\left(\frac{N(t)}{N_0}\right)$						

1. أكمل الجدول .

2. أرسم على ورقة مليمترية البيان $-\ln\left(\frac{N(t)}{N_0}\right) = f(t)$

سلم الرسم على محور الفواصل $1cm \rightarrow 20$ jours - على محور الترتيب $1cm \rightarrow 0.10$

3. أكتب قانون التناقص الإشعاعي و هل يتوافق مع البيان السابق . برر إجابتك .

- بين أنه يمكن كتابته بالشكل $N = N_0 \left(\frac{1}{2}\right)^{t/t_{1/2}}$

4. استنتج من البيان قيمة λ ثابت التفكك المميز للنظير ${}^A_Z PO$.
5. أعط عبارة زمن نصف عمر ${}^A_Z PO$ واحسب قيمته.
6. أحسب بالميجا إلكترون فولط طاقة الربط للنواة ${}^A_Z PO$ و ${}^{206}_{82}Pb$ ثم طاقة الربط لكل نوية وقارن بينهما؟
 تعطى: $m_p = 1.00728 \text{ u}$, $m_n = 1.00866 \text{ u}$, $m_{Pb} = 205.974 \text{ u}$, $m_{Po} = 209.982 \text{ u}$

التمرين الرابع:

كتب على قارورة ما يلي: محلول حمض الإيثانويك CH_3-COOH ، تركيزه المولي C_a .

1. بهدف تحديد التركيز المولي لمحلول حمض الإيثانويك، قيس الـ pH له فوجد 3,8 في درجة الحرارة $25^\circ C$.
 أكتب معدلة انحلال حمض الإيثانويك في الماء.

ب. اكتب عبارة نسبة التقدم عند التوازن بدلالة C_a و $[H_3O^+]_{\text{éq}}$.

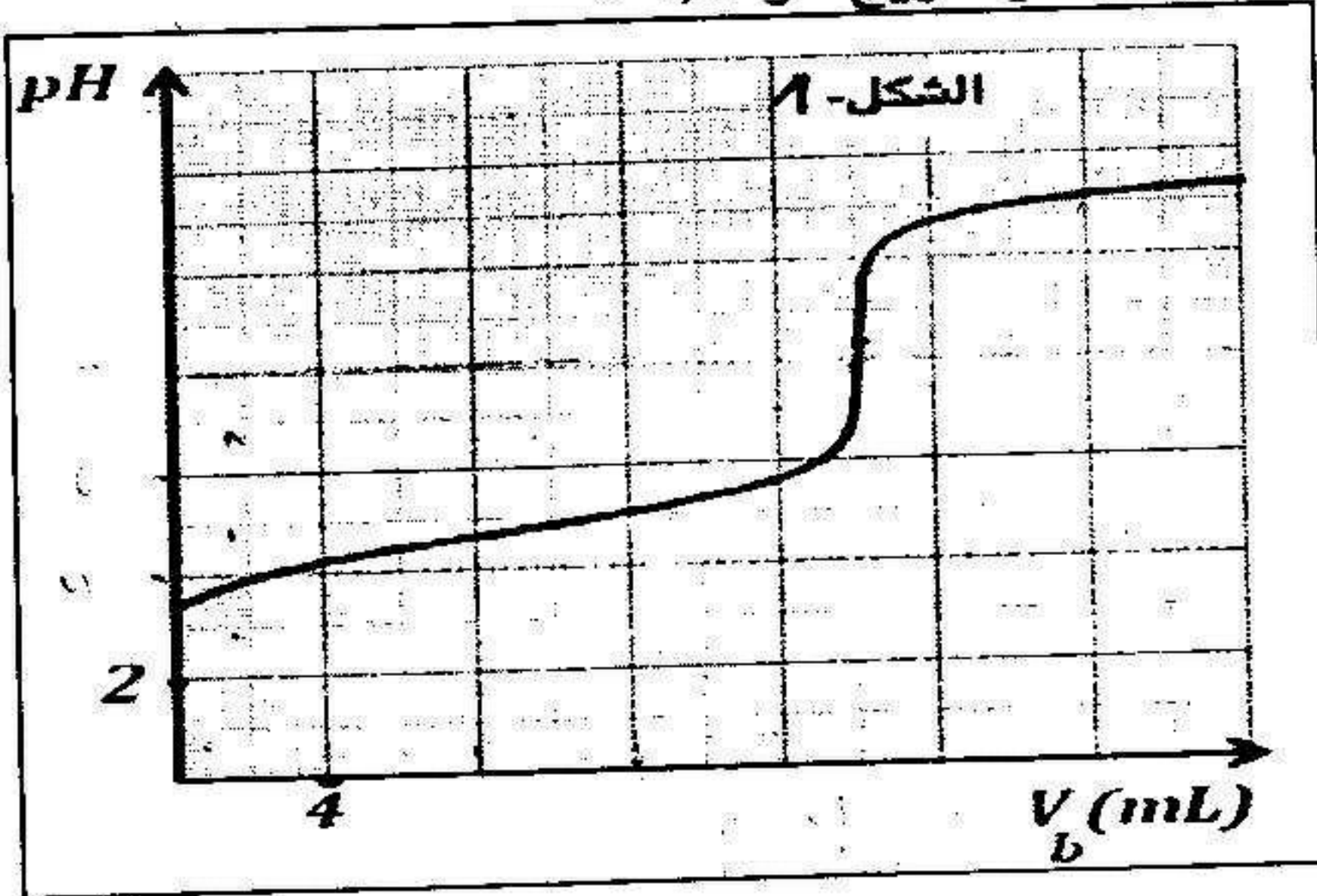
ج. استنتج التركيز المولي C_a علما أن: $\tau_{\text{éq}} = 0,0158$.

2. بهدف التأكد من قيمة C_a ، نعاير حجما $V_a = 18 \text{ mL}$ من محلول حمض الإيثانويك بمحلول هيدروكسيد الصوديوم

تركيزه المولي $C_b = 1,0 \times 10^{-2} \text{ mol/L}$. استعمال تجهيز EXAO مكن من الحصول على الشكل 1 -
 أ. أنشئ جدولا لتقدم التفاعل.

ب. جد إحداثيتي نقطة التكافؤ $E(V_{bE}; pH_E)$ ، ثم احسب C_a .

3. عند إضافة حجم $V_b = 9 \text{ mL}$ من محلول هيدروكسيد الصوديوم، نجد pH المزيج هو 4,8.



أ. عبر عن النسبة $\frac{[CH_3COO^-]}{[CH_3COOH]}$ بدلالة pH و pKa، ثم احسبها.

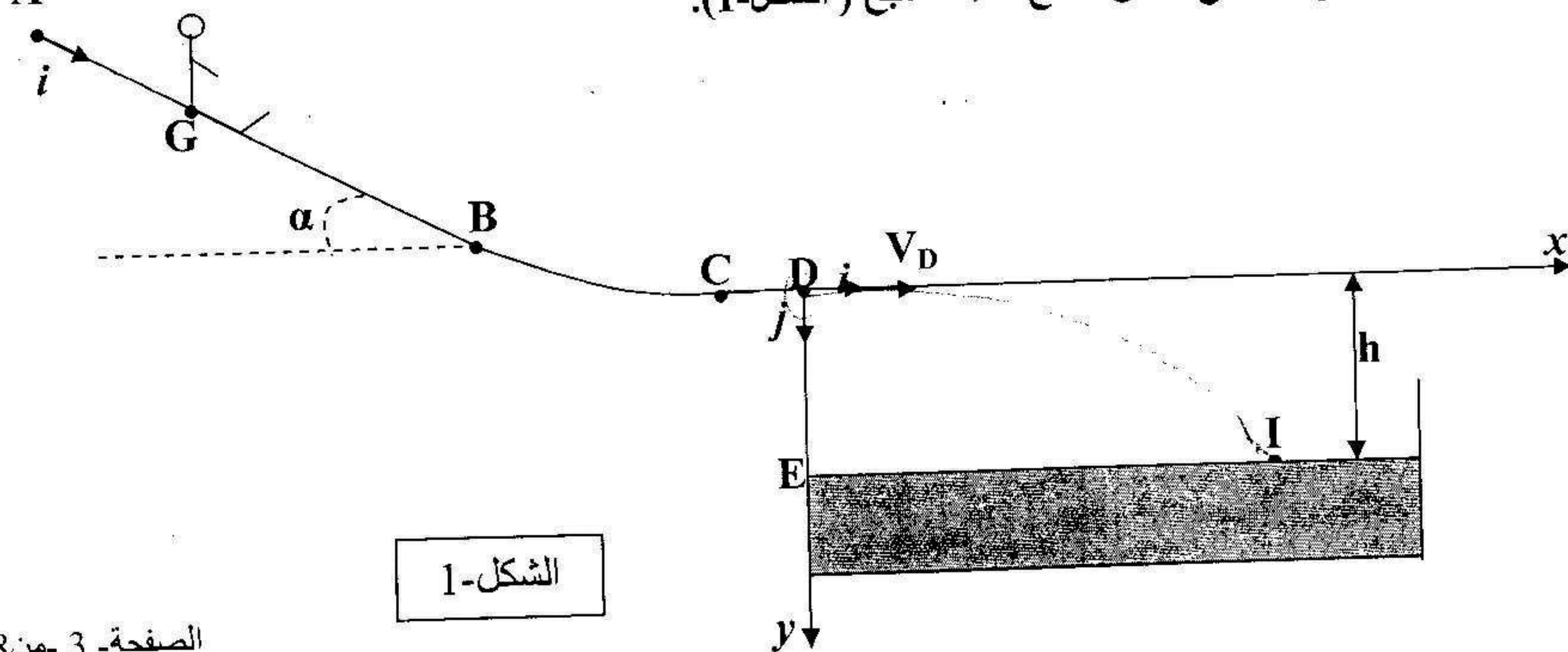
ب. عبر عن النسبة السابقة بدلالة تقدم التفاعل X، ثم احسب قيمة X.

ج. احسب النسبة النهائية للتقدم. ماذا تستنتج؟

يعطى: $pKa(CH_3COOH/CH_3COO^-) = 4,8$

التمرين الخامس:

ينزل قفل مركز عطالته G وكتلته m فوق مزلقة مسبح مكونة من جزء AB مستو مائل عن الأفق بزاوية α وجزء BC دائري وجزء CD مستو أفقي يوجد على الارتفاع h من سطح ماء المسبح (الشكل 1).

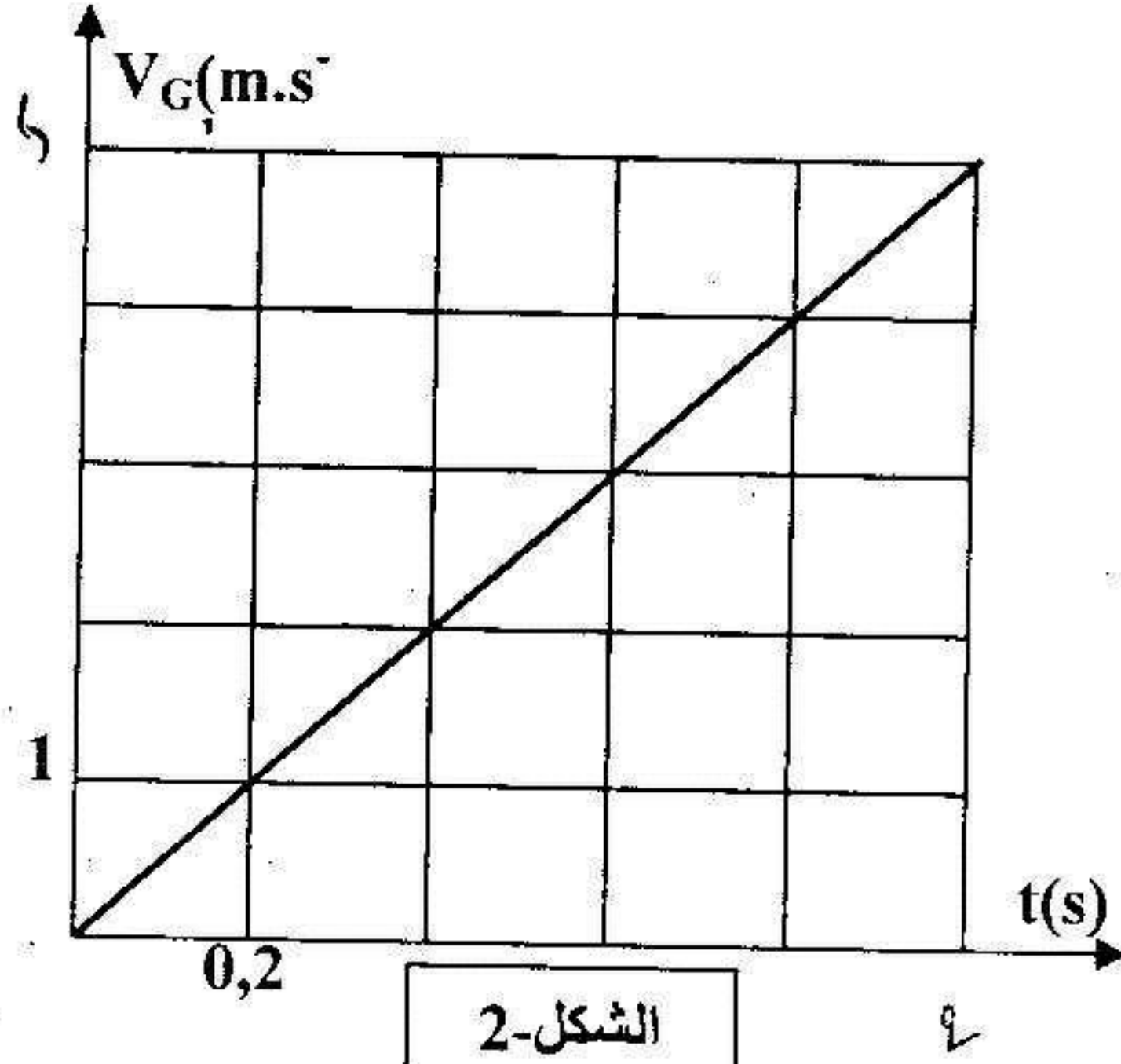


المعطيات الاحتكاكات مهملة ، $g=10(\text{si})$ ، $AB=10\text{m}$ ، $DE=h=1,8\text{m}$.

① ينطلق الطفل عند اللحظة $t=0$ بدون سرعة ابتدائية من الموضع A، فينزل على AB، لدراسة حركة G، نختار معلما (A, \vec{i}) مرتبطا بالأرض حيث $X_G=X_A=0$ عند $(t=0)$.
1.1 بتطبيق القانون الثاني لنيوتن، أثبت أن المعادلة التفاضلية التي تحققها الفاصلة X_G لمركز عتالة الطفل تكتب كما يلي:

$$\frac{d^2 X_G}{dt^2} = g \cdot \sin \alpha$$

1.2 بعد تصوير حركة الطفل بواسطة كاميرا رقمية ومعالجة المعطيات بواسطة برنامج مناسب تم الحصول على مخطط السرعة لمركز العتالة G (الشكل-2).



أ. أوجد بيانيا قيمة التسارع a_G .

ب. حدد المدة الزمنية المستغرقة على الجزء AB.

② يغادر مركز عتالة الطفل المزلق في الموضع

D بالسرعة $V_D=11 \text{ m.s}^{-1}$ عند لحظة نعتبرها

مبدأ الأزمنة ليسقط في ماء المسبح. ندرس

حركة G في المعلم (D, \vec{i}, \vec{j}) .

2.1 بتطبيق قانون نيوتن الثاني، أوجد عبارة المعادلتين

الزمنيتين $x(t)$ و $y(t)$ لحركة G. استنتج معادلة المسار.

2.2 يصل G إلى سطح الماء في الموضع I بالسرعة \vec{v}_I .

أ. تحقق أن لحظة وصول G إلى I هي $t_I=0,6\text{s}$.

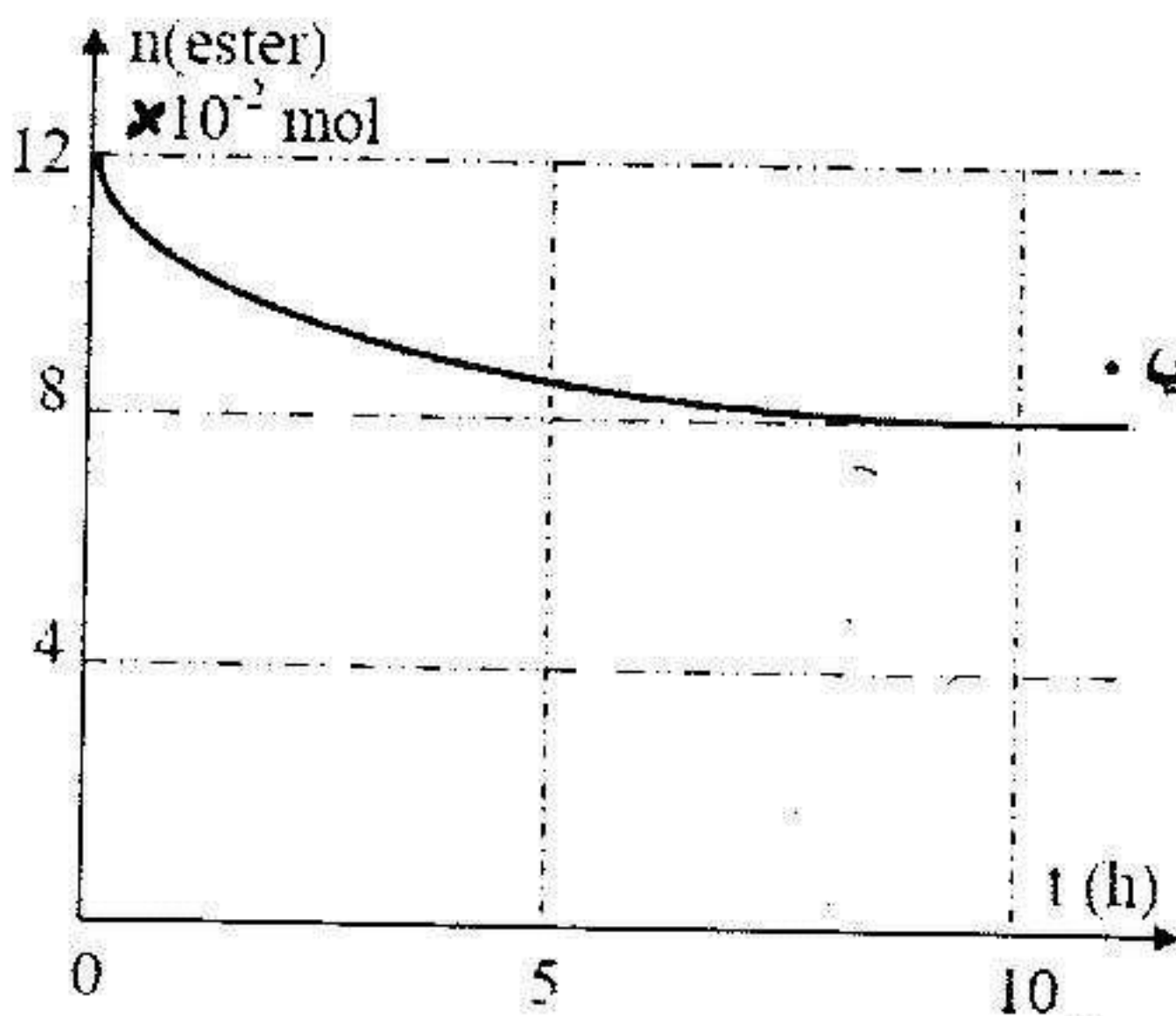
ب. احسب قيمة v_I . حدد قيمة المسافة EI.

2.3 يصل طفل آخر كتلته m' أكبر من m إلى الموضع D بنفس قيمة السرعة السابقة V_D .

هل تتغير قيمة المسافة EI؟ علل.

التمرين السادس: $(R_1 + R_2)$
انطلاقا من مزيج متكافئ مكون من الماء وميثانوات الميثيل (HCOOCH_3) وبمراقبة كمية الإستر في المزيج نتحصل على

منحنى تغير كمية الأستر المتبقية بدلالة الزمن $(n(\text{ester}) = f(t))$ كما في الشكل المقابل.



(1) اكتب معادلة التفاعل المنمدجة لهذا التحول. وبم يسمى

(2) سم المركبات الناتجة عن هذا التحول.

(3) ماهي خصائص هذا التحول.

بعد مدة زمنية وعند اللحظة (t_{eq}) نتحصل على مزيج (M) في حالة توازن كيميائي.

(1) انشئ جدولا لتقدم التفاعل.

(2) حدد التركيب المولي للمزيج (M) عند التوازن الكيميائي.

(3) احسب ثابت التوازن K لهذا التحول الكيميائي.

(4) احسب النسبة النهائية للتقدم τ_f .

عند اللحظة t_{eq} نضيف للمزيج (M) ، $0,02 \text{ mol}$ من الكحول و $0,02 \text{ mol}$ من الحمض.

(1) بين في أي اتجاه تتحول الجملة تلقائيا مع التعليل.

(2) حدد التركيب المولي للمزيج عند التوازن الجديد.

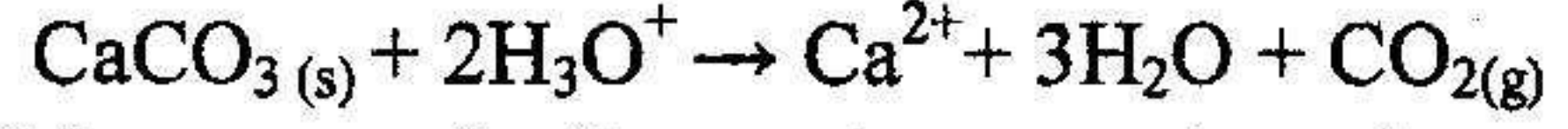
الموضوع الثاني

التمرين الأول:

حويجة تحتوي على حجم $v=100 \text{ mL}$ من محلول حمض كلور الهيدروجين (H_3O^+ , Cl^-) تركيزه المولي

$C=0,1 \text{ mol/L}$ عند درجة حرارة 25°C ، في اللحظة $t=0$ نضيف إليها كتلة $m_0=2 \text{ g}$ من كربونات الكالسيوم CaCO_3

(S) فيحدث تحول كيميائي تام يتمثل بمعادلة التفاعل التالية:



بمرور الزمن نقيس حجم غاز CO_2 المنطلق تحت ضغط ثابت P

فحصل على المنحنى البياني المقابل:

1- / أحسب كميات المادة الابتدائية للمتفاعلات.

ب/ أنشئ جدولاً لتقدم التفاعل، وحدد قيمة التقدم الأعظمي.

2- / عبر عن تقدم التفاعل x بدلالة R ، P ، T ، v_{CO_2}

ب/ ما قيمة حجم غاز CO_2 التي يمكن الحصول عليها في التجربة؟

ج/ حدد قيمة زمن نصف التفاعل.

د/ أحسب قيمة السرعة الحجمية للتفاعل عند اللحظة $t=20 \text{ s}$

3- يمكن متابعة تطور التحول السابق بقياس الناقلية النوعية σ :

أ/ برر تناقص الناقلية النوعية للوسط التفاعلي بمرور الزمن.

ب/ أحسب الناقلية النوعية للوسط التفاعلي عند اللحظة $t=0$

ج/ بين أن الناقلية النوعية للوسط التفاعلي في اللحظة t تعطى بالعلاقة: $\sigma = 4,25 - 580 \cdot x$ حيث x تقدم التفاعل

د/ أحسب قيمة الناقلية النوعية عند نهاية التفاعل

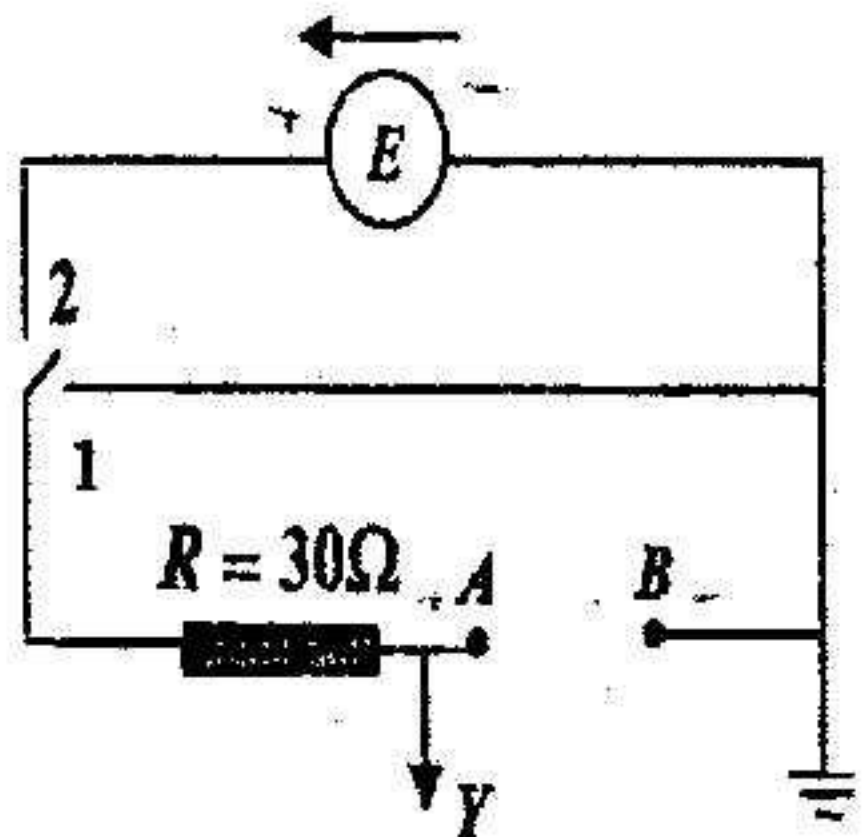
المعطيات: $P = 1,02 \cdot 10^5 \text{ Pa}$ ، $R = 8,31 \text{ SI}$ ، $C(12 \text{ g/mol})$ ، $O(16 \text{ g/mol})$ ، $\text{Ca}(40 \text{ g/mol})$

$\lambda(\text{Cl}^-)=7,5 \text{ mS.m}^2/\text{mol}$ ، $\lambda(\text{Ca}^{2+})=12 \text{ mS.m}^2/\text{mol}$ ، $\lambda(\text{H}_3\text{O}^+)=35 \text{ mS.m}^2/\text{mol}$ ، $V_M=22,4 \text{ L/mol}$

التمرين الثاني:

للتعرف على طبيعة ثنائي قطب مجهولين وكذا استنتاج مميزات كل منهما

نحقق الدارة الكهربائية المبينة بالشكل -1-



الشكل -1-

التجربة الأولى:

بين النقطتين A و B ثنائي قطب X_1 ، وبين طرفيه نوصّل راسم الاهتزاز المهبطي عند وضع

القاطع في الوضع 2 . يظهر على شاشة راسم الاهتزاز البيان (1)

التجربة الثانية:

بين النقطتين A و B ثنائي قطب X_2 ، عند وضع القاطعة في الوضع 2 . يظهر على شاشة راسم الاهتزاز البيان (2)

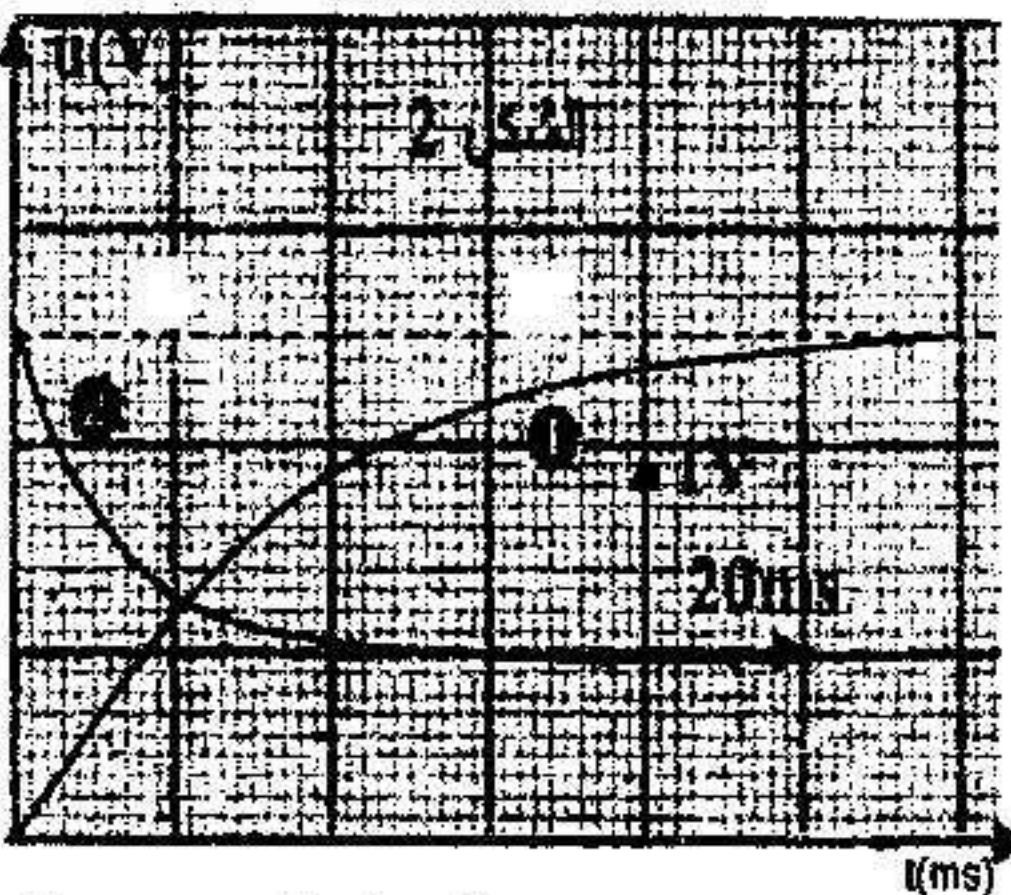
وتبلغ شدة التيار العظمى المقدار 50 mA .

1- بالاعتماد على البيانيين التاليين: أ/ بين طبيعة كل ثنائي قطب .

ب/ استنتج قيمة τ ثابت الزمن لكل ثنائي قطب . ج/ استنتج خواص كل منهما .

2- أ/ بتطبيق قانون التوترات أوجد المعادلة التفاضلية للتيار الكهربائي $i(t)$ المار في

الدارة في التجربة الثانية .



ب/ هذه المعادلة تقبل حلا من الشكل : $i(t) = \frac{E}{R+r}(1 - e^{-\frac{(R+r)}{L}t})$

ماذا تمثل المقادير التي تظهر في عبارة $i(t)$ السابقة

ج/ أوجد عبارة التوتر $U_{X_2}(t)$

3- أحسب قيمة الطاقة الكهربائية المخزنة في كل ثنائي القطب وذلك في النظام الدائم

التمرين الثالث:

في مفاعل نووي تُغذى أنوية اليورانيوم $^{235}_{92}U$ بواسطة نوترون بطيء ، فيحدث تفاعل الانشطار التالي :



1- أوجد قيمتي x و Z .

2-

(أ) عرف تفاعل الانشطار . لماذا لا نستعمل نوترونا سريعا ؟

(ب) ما المقصود بتفاعل الانشطار التسلسلي ؟

(ج) لكي نتحصل على نوترون بطيء لاستعماله في قذف اليورانيوم $^{235}_{92}U$. نستعمل مزيجا من الأمريسيوم $^{243}_{95}Am$ و البريليوم

9_4Be ، حيث يشع الأمريسيوم حسب نمط إشعاعي واحد ويُعطي $^{239}_{93}Nd$ ، ثم يُستعمل الجسم الناتج لغذف أنوية البريليوم

والحصول على نوترون ونواة 4_2X . اكتب المعادلتين الموافقتين ، وبين أن 4_2X هو $^{12}_6C$

(د) نستعمل هذا المنبع فقط من أجل إقلاع التفاعل . لماذا ؟

3- أيجز مخطط الحصيلة الطاقوية لهذا التفاعل .

4- أحسب الطاقة المحررة عن 1g من اليورانيوم 235 .

5- علما أن احتراق 1 طن من البترول يُنتج طاقة قدرها $4,2 \times 10^{10} J$ ، ما هي كتلة البترول التي تُحرر نفس الطاقة التي يحررها 1g من اليورانيوم 235 ؟

6- إن استطاعة المفاعل النووي هي $P = 9 \times 10^6 W$ وستهلك 1 طن من اليورانيوم 235 خلال سنة . أحسب مردود هذا المفاعل .

يُعطى : $1u = 1,66 \times 10^{-27} kg$

$1eV = 1,6 \times 10^{-19} J$

$N_A = 6,02 \times 10^{23} mol^{-1}$

النواة أو الجسم	$^{235}_{92}U$	$^{139}_{54}Xe$	$^{94}_{38}Sr$	1_0n
الكتلة (u)	235,0134	138,8882	93,8946	1,0087

التمرين الرابع:

مستوي مائل بزاوية $\alpha = 30^\circ$ عن المستوي الأفقي P . تُعطى لجسم (S) نعتيره نقطة مادية كتلتها $m = 200 g$ سرعته ابتدائية

$v_0 = 2 m/s$ شعاعها موازي لـ AB وهو ساكن في A .

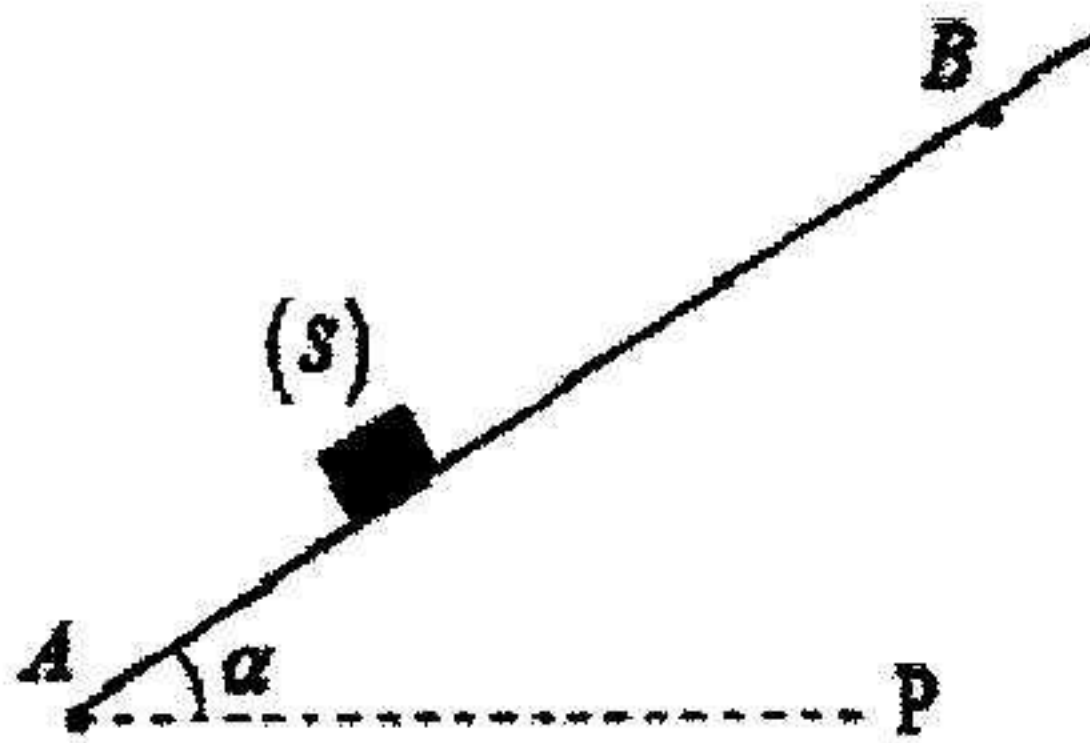
يتوقف الجسم في النقطة B .

I- نعتبر الاحتكاك مهملًا على المستوي المائل .

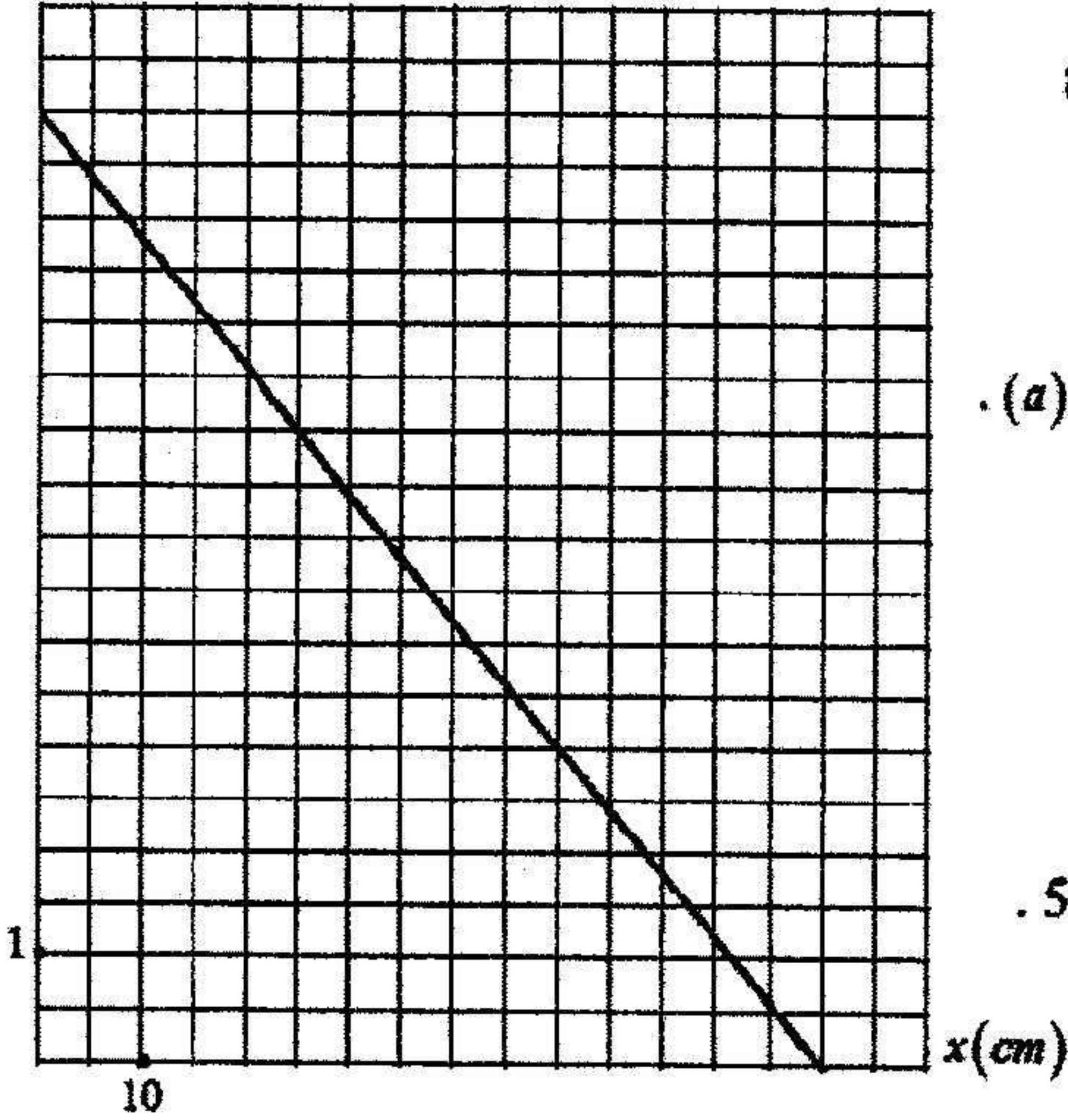
1- أحسب التسارع (a) للجسم (S) .

2- أحسب المسافة AB .

3- أحسب المدة التي يستغرقها من A إلى B .



II - في الحقيقة يوجد احتكاك على المستوي لئلا ، فمن أجل حساب شدة قوة الاحتكاك (f) نقوم بالتجربة التالية:
 نلق الجسم (S) من النقطة A على المسار AB بسرعة ابتدائية أخرى v_0 ونسجل فواصله المتعاقبة على المحور x الذي مبدؤه النقطة A ونسجل كذلك سرعته من أجل كل فاصلة ، ونمثل البيان $v^2 = f(x)$



- 1 - (أ) بتطبيق القانون الثاني لنيوتن في معلم غاليلي أثبت أن تسارع الجسم (S) يُعطى بالملاقة $a = -g \sin \alpha - \frac{f}{m}$
- (ب) ما هو شرط أن يكون معلم الدراسة غاليليا؟
- 2 - اكتب العلاقة التجريبية $v^2 = f(x)$
- 3 - باستعمال العلاقتين النظرية والتجريبية أوجد قيمة التسارع (a) .
- 4 - احسب قيمة (f) .
- 5 - استنتج من البيان :
 - قيمة السرعة الابتدائية (v_0) .
 - المسافة المقطوعة عند توقف الجسم .
- 6 - (أ) مثل مخطط السرعة في المجال الزمني $[0 ; 0.5s]$.
 (ب) باستعمال هذا المخطط تأكد من المسافة المحسوبة في السؤال 5 .
 نأخذ في كل التمرين $g = 10 m/s^2$

التمرين الخامس:

- I - نحضر محلولاً (S) بإذابة حجم $V_2 = 2L$ من غاز النشادر NH_3 في حجم $V = 1L$ من الماء المقطر، بعد قياس قيمة PH المحلول نجد $PH = 11.85$
 - 1 - احسب التركيز الابتدائي C_0 للمحلول (S) .
 - 2 - أكتب معادلة المحلول NH_3 في الماء ، وحدد الناتجين (أساس / حمض) .
 - 3 - أشرح جدول تقدم هذا التفاعل .
 - 4 - عبر عن نسبة تقدم التفاعل α بدلالة الجداء الشاردي للماء K_w و التركيز المولي C_0 و PH المحلول .
 - احسب قيمتها ، ماذا تستنتج؟
 - 5 - احسب التراكيز المولية للأنواع الكيميائية الموجودة في المحلول عند التوازن .
 - 6 - استنتج قيمة ثابت الحموضة K_a وقيمة PK_a للشاكلة : (أساس / حمض) .
- II - / المعايير المترية:
- نأخذ حجماً $10ml$ من المحلول السابق (S) ونضيف إليه حجماً V_e من الماء المقطر، فنحصل على محلولاً مائياً (S_1) لنفس الأساس تركيزه المولي C_0

لتحديد C_B نعاير حمما $V_B = 10ml$ من المحلول (S_1) بواسطة محلول مائيا لحمض كلور الماء ($H_3O^+ + Cl^-$) تركيزه المولي $C_A = 2 \times 10^{-3} mol/l$ بعد دراسة منحني تغيرات PH المحلول بدلالة الحجم المضاف تعطى إحداثي نقطة التكافؤ

$$E(V_{AE} = 20ml, PH_E = 5.6)$$

1- ما المقصود بنقطة التكافؤ.

2- أكتب معادلة تفاعل المعايرة .

3- أحسب قيمة ثابت التوازن لهذا التفاعل ، ماذا تستنتج؟

5- أحسب قيمة C_B ، واستنتج حجم الماء المضاف V_e .

6- استنتج قيمة PH المحلول عندما نضيف حمما قدره $V_A = 10ml$.

من المحلول المائي لحمض كلور الماء ، وما هو النوع الكيميائي الغالب في المحلول للتأليه (أساس / حمض) .

7- من بين الكواشف التالية ، ما هو المناسب لهذه المعايرة . علل جوابك.؟

$$K_a = 10^{-14}, V_M = 25mol/l$$

الكاشف	بمجال تغير اللون
احمر البروموفينول	5.2 → 6.8
احمر الفينول	6.6 → 8.4
الملياتون	3.1 → 4.4
الفينول فتالين	8.2 → 10

التمرين السادس : (رياضي)

نعتبر عمود مكون من صفيحة من الألمنيوم مغمورة في محلول كبريتات الألمنيوم ($2Al_{(aq)}^{3+} + 3SO_{4(aq)}^{2-}$) حجمه

50mL حيث $[Al^{3+}] = 0,5mol/L$ وصفيحة نحاس مغمورة في محلول كبريتات النحاس ($Cu_{(aq)}^{2+} + SO_{4(aq)}^{2-}$) حجمه

50mL حيث $[Cu^{2+}] = 0,5mol/L$ وجسر ملحي .

1- مادور الجسر الملحي .

2- نربط العمود بمقياس الأمبير متر و مقاومة على التسلسل ، فنلاحظ مرور تيار كهربائي خارج العمود من

صفيحة النحاس نحو صفيحة الألمنيوم .

أ- أرسم شكلا تخطيطيا للعمود موضعا جهة التيار و جهة حركة الإلكترونات و قطبية العمود .

ب- أعط الرمز الإصطلاحي لهذا العمود .

ج- أكتب المعادلتين النصفيتين عند المسريين ، ثم معادلة التفاعل النموذج الحادث في العمود .

د- أحسب كسر التفاعل الابتدائي Q_r ، و حدد إتجاه تطور الجملة علما أن ثابت التوازن $K = 10^{20}$.

3- أ- أحسب كمية الكهرباء العظمى Q_{max} التي ينتجها العمود خلال إشتغاله مستعينا بجدول التقدم علما أن

$$\text{المتفاعل المعد هو أحد شوارد المحلولين، تعطى } 1F = 96500 C \cdot mol^{-1}$$

ب- إذا كان هذا العمود ينتج تيارا كهربائيا مستمرا شدته $i = 0,67A$ ، أحسب مدة إشتغاله .

ج- احسب كتلة المعدن المختفي ؟

$$\text{تعطي : } M(Al) = 27g/mol$$